

长方形、正方形的周长

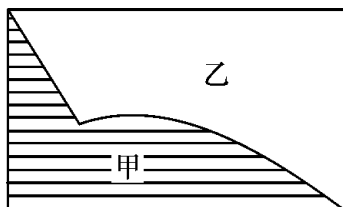
每课一练

1. 填一填。

- (1) 长方形的周长是长方形的()和()的 2 倍。
- (2) 长方形周长的大小是由长方形的()和()决定的。
- (3) 用一根长 24 厘米的铁丝恰好围成一个长方形, 这个长方形的周长是()厘米。
- (4) 正方形的周长是边长的()倍。
- (5) 一个长 5 厘米, 宽 3 厘米的长方形, 周长是()厘米。
- (6) 一个长方形的长是 16 分米, 宽是长的一半, 这个长方形的周长是()分米。
- (7) 围成一个平面图形的所有边长的总和叫这个图形的()。
- (8) 手帕的形状是()边形。
- (9) 爸爸用铁丝围了一个图形, 所用的铁丝的长度就是这个图形的()。
- (10) 长方形和正方形都有()条边。

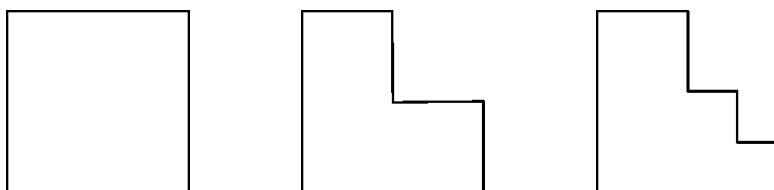
2. 判断题。(对的画“√”, 错的画“×”)

- (1) 正方形是长宽相等的长方形。 ()
- (2) 长方形和正方形的 4 个角都一样。 ()
- (3) 长方形的对边相等。 ()
- (4)



- A. 图形甲的周长大于图形乙的周长。 ()
- B. 图形甲的周长等于图形乙的周长。 ()
- C. 图形甲的周长小于图形乙的周长。 ()

(5)



- A. 3 个图形的周长不一样长。 ()
- B. 3 个图形的周长一样长。 ()
- C. 无法比较。 ()

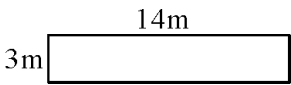
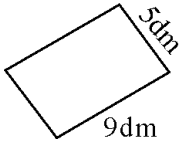
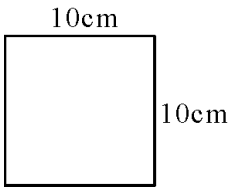
3. 量一量,算一算。

	长	宽	周长
语文书封面			
数学书封面			
黑板面			

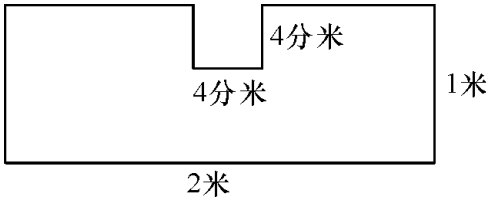
4. 他们谁说得对?



5. 求下面图形的周长。



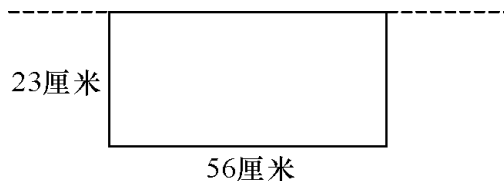
6. 计算下列图形的周长。



7. 填表。

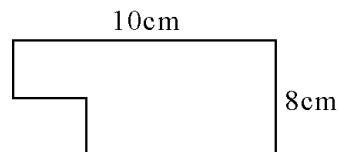

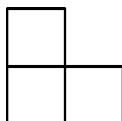
长方形			正方形	
长	宽	周长	边长	周长
23 厘米	16 厘米		13 分米	
21 米	9 米		42 厘米	

8. 下面是一块靠墙的菜地，三面围有篱笆，篱笆有多长？

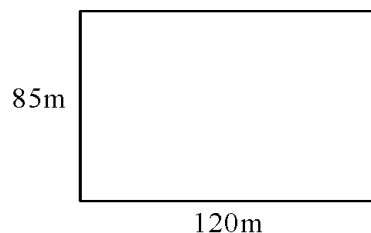


9. 一根铁丝正好围成一个长 6cm，宽 4cm 的长方形，如果仍用这根铁丝围成一个正方形，正方形的边长是多少？

10. 看一看，数一数，算一算下面各图形的周长。（每小格的边长都是 1 厘米）



11. 一个长方形水池如图，如果沿着水池走 5 圈，共走了多少米？



12. 从一张长 8 分米、宽 6 分米的长方形纸上剪下一个最大的正方形。剩下图形的周长是多少分米？

13. 将一张边长是 36 厘米的正方形纸片,剪成 4 个完全一样的小正方形纸片,这 4 个小正方形的周长的总和比原来正方形的周长增加了多少厘米?

拓展提高

14. 学校长方形操场四周是 2 米的道路,操场长 150 米,宽 100 米,道路外沿四周的周长是多少米?

15. 小丽的生日到了,妈妈送给她一份礼物,这份礼物的礼品盒形状是边长为 2 分米的正方体,外面扎着彩带,彩带上还打了一个蝴蝶结,蝴蝶结用了 3 分米长的彩带。这条彩带长多少分米?

发散思维

16. 用两张桌面边长是 8 分米的正方形桌子,拼成一个长方形桌面的大桌子,这个长方形桌面的周长是多少分米? 用 4 张这样的正方形桌子可以怎样拼? 拼成的桌面的周长是多少分米?